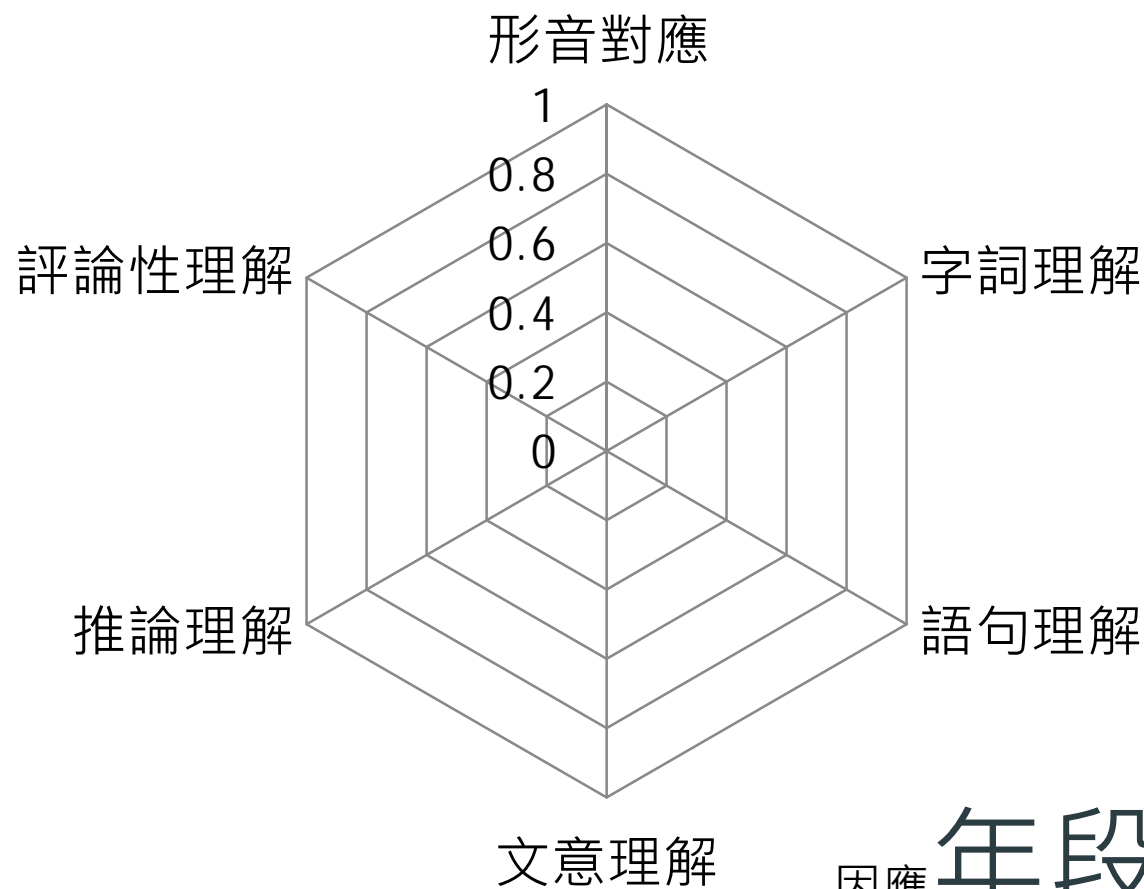




# 協助縣市辦理學力檢測【國小段】 評量向度與範例題

國家教育研究院

# 國語文評量向度示意圖



因應年段調整各向度比重

# 國語文評量向度說明

- ▶ 形音對應：學生能辨認字音字形。
- ▶ 字詞理解：學生能理解文章脈絡中字或詞彙的意義。
- ▶ 語句理解：學生能理解文章脈絡中特定語句所傳達的意義。
- ▶ 文意理解：學生能理解篇章內容傳達的意義、掌握重點。
- ▶ 推論理解：學生能整合文章上下文，結合自身背景知識，以超越文章字面的訊息。
- ▶ 評論性理解：學生能從特定觀點詮釋文章的內容、寫作手法、情意表達等。



# 範例試題-國語文2年級

## 【例題】【字詞理解】

下列哪一個選項中的「好」，可以換成「非常」，意思不變？

- ①天氣變得好寒冷。
- ②這個問題好解決。
- ③她是我的好朋友。

正確答案：①

# 範例試題-國語文5年級

## 【例題】【語句理解】

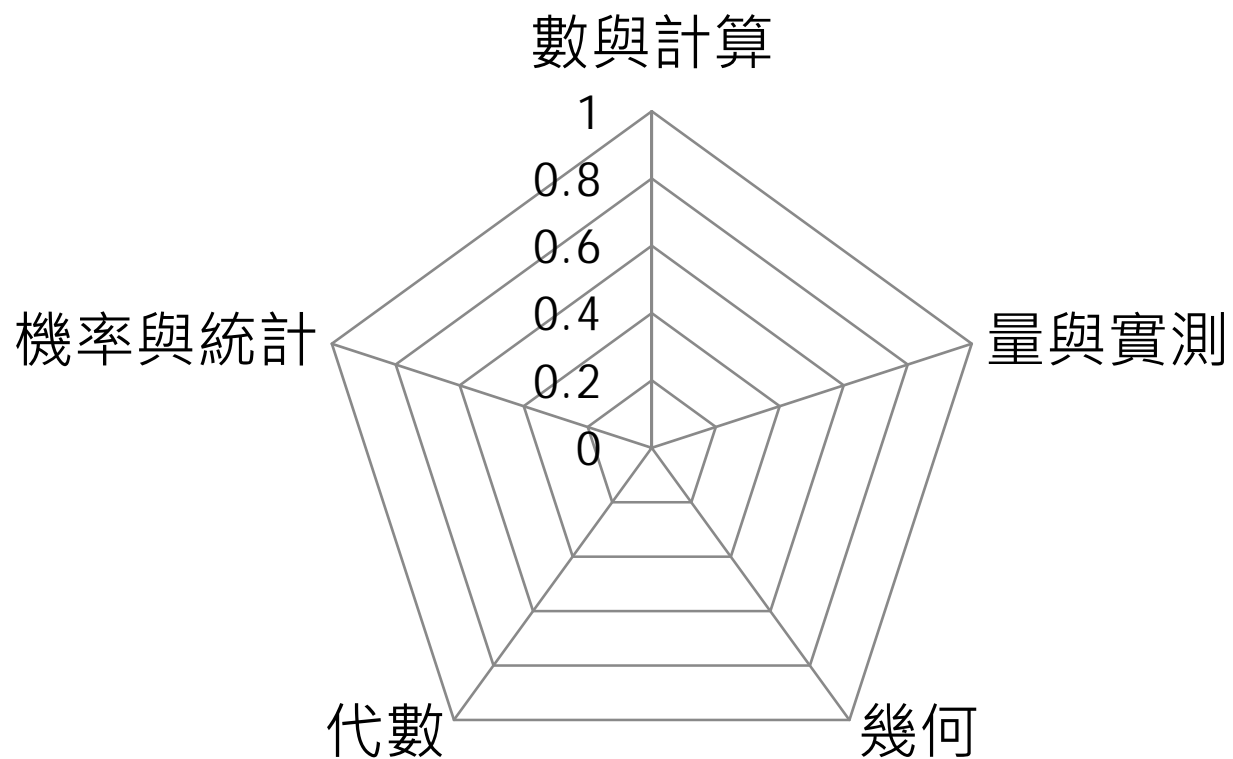
一個機器中，螺絲釘也是重要的，千萬不要小看它。

這句話是形容螺絲釘的什麼特質？

- ①螺絲釘有許多不同的外型。
- ②螺絲釘有許多不同的用途。
- ③螺絲釘的功能性不容忽視。
- ④螺絲釘是機器中的小部分。

正確答案： ③

# 數學評量向度示意圖



因應 **年段** 調整各向度 **比重**



# 範例試題-數學3年級

【例題】【代數 - 概念理解】

「小明到便利商店買了4瓶相同的飲料，一共付了48元，1瓶飲料是多少元？」下列哪個算式可以記錄這個問題？

①  $( \quad ) \times 4 = 48$

②  $( \quad ) \div 4 = 48$

③  $4 + 48 = ( \quad )$

④  $48 - ( \quad ) = 4$

▶ 正確答案：①

# 範例試題-數學5年級

【例題】【代數 - 程序執行】

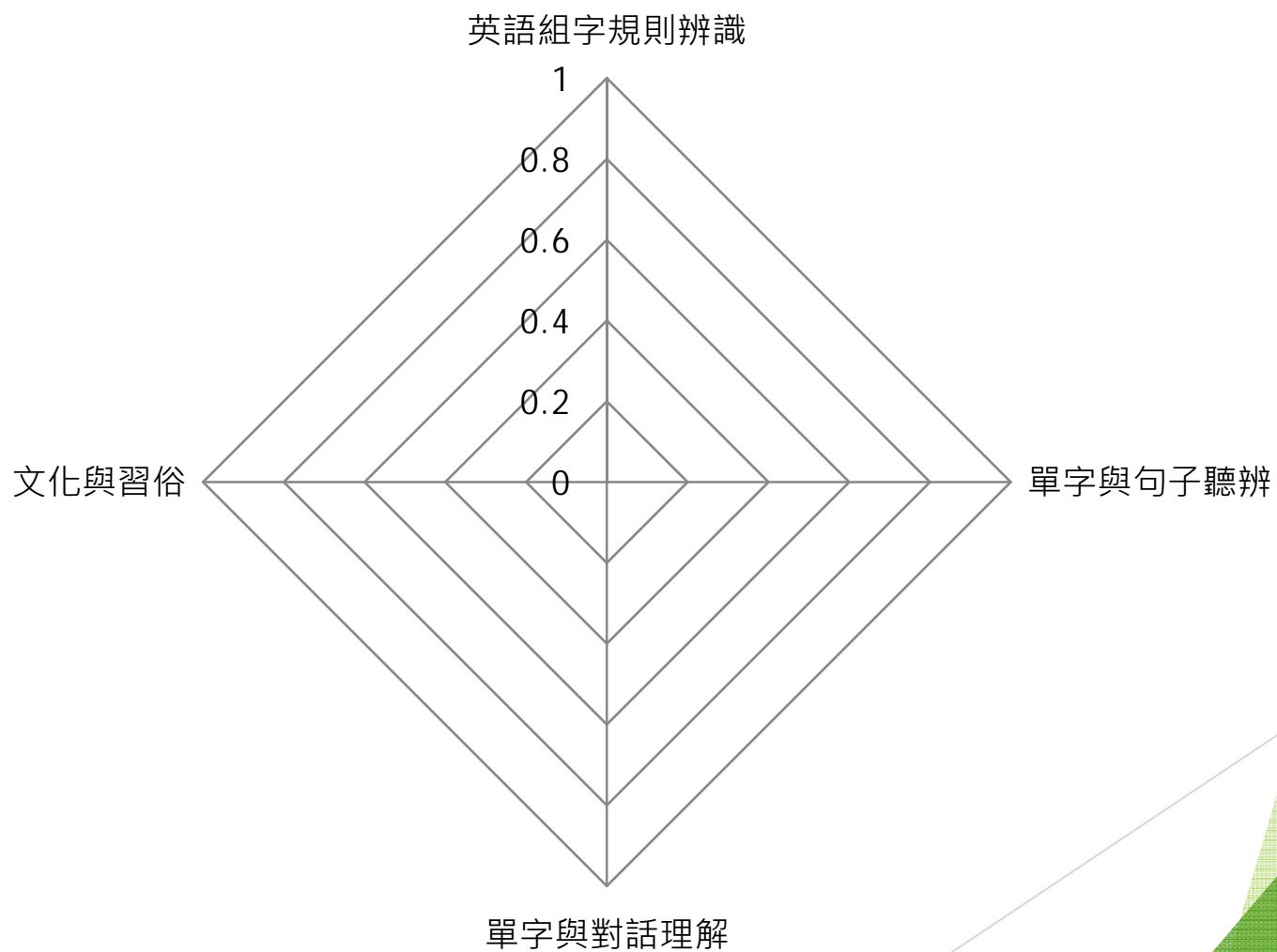
臺灣「種樹的男人」賴水和每天從上午7時開始種樹到下午3時收工，每天種100棵樹，平均種1棵樹要花多少時間？

- ① 2分24秒
- ② 4分48秒
- ③ 6分
- ④ 13分12秒

正確答案：②



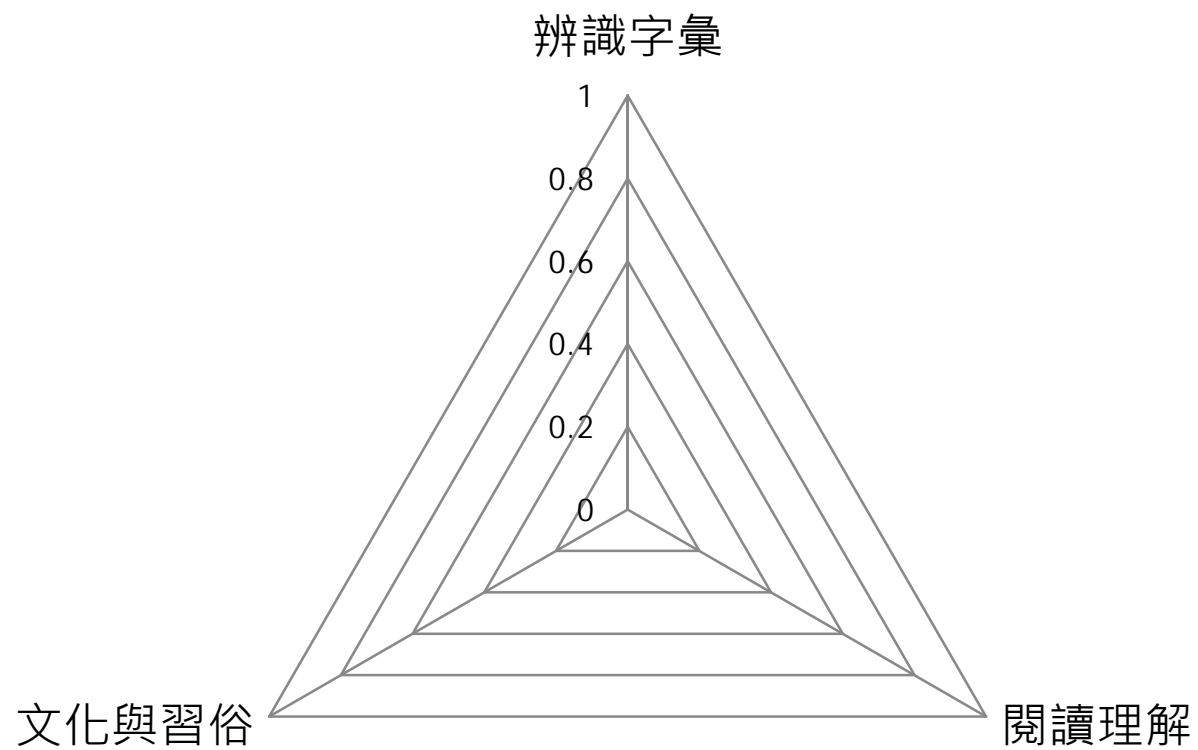
# 英語文評量向度示意圖-聽力



# 英語文評量向度說明-聽力

- ▶ 英語組字規則辨識：能聽辨英語的字母與發音。
- ▶ 單字與句子聽辨：能聽辨字與句子。
- ▶ 單字與對話理解：能聽懂單字、句子並回應。
- ▶ 文化與習俗：能認識國內外節慶與用語。

# 英語文評量向度示意圖-閱讀





# 英語文評量向度說明-閱讀

- ▶ 辨識字彙：能辨識單字。
- ▶ 閱讀理解：能看懂簡單句子或對話。
- ▶ 文化與習俗：能認識國內外節慶與用語。

# 範例試題-英語文5年級（聽力）

【例題】【聽辨單字】

聽到單字：girl

看到選項：① go      ② get      ③ girl

正確答案：③

# 範例試題-英語文5年級（閱讀）

【例題】【閱讀理解】

( ) a fish

①



②



③



正確答案：①